



Rilevazione degli apprendimenti

Anno Scolastico 2004 – 2005

PROVA DI SCIENZE

Scuola Primaria

Classe Seconda

1. L'aria è tiepida e sui rami spuntano le prime foglie. Gli uccelli preparano il nido per accogliere i piccoli.

In quale stagione ci troviamo?

- A. Estate.
- B. Primavera.
- C. Autunno.

2. Tra i cibi sotto raffigurati, uno solo è di origine animale; gli altri si ottengono lavorando dei vegetali.



Qual è il cibo di origine animale?


- A. Olio.
- B. Marmellata.
- C. Yogurt.

3. L'acqua che beviamo quando abbiamo sete ha alcune caratteristiche.

Quale tra le caratteristiche elencate è FALSA?

- A. L'acqua ha colore azzurro.
- B. L'acqua non ha sapore.
- C. L'acqua non ha colore.

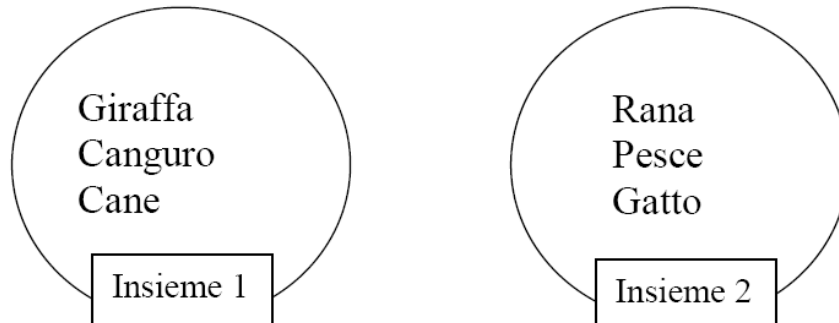
4. Arriva l'inverno. Gli animali si preparano ad affrontare il lungo periodo freddo, durante il quale il cibo è scarso.



Quale, tra le seguenti frasi, è FALSA?

- A. Gli scoiattoli raccolgono noci nella tana.
- B. Le tartarughe vanno in letargo.
- C. Gli orsi e le volpi perdono il pelo.

5. Osserva questi due insiemi.



L'insieme 1 è l'insieme degli animali che allattano i propri cuccioli. L'insieme 2 è l'insieme degli animali che depongono le uova.

In uno dei due insiemi c'è un intruso.

Quale animale è nell'insieme sbagliato?

- A. Giraffa.
- B. Rana.
- C. Gatto.

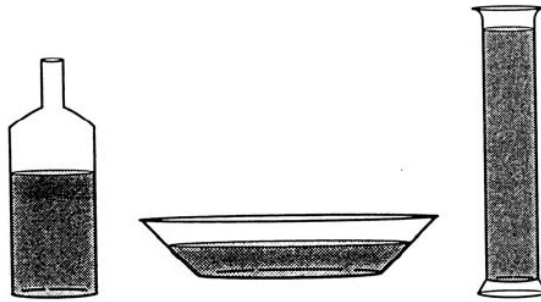
6. Durante una gita alcuni bambini trovano molti ricci di castagne. A scuola, con l'aiuto dell'insegnante, scoprono come è fatto questo frutto. Che cosa osservano nell'ordine partendo dall'esterno della castagna?

- A. Il riccio, la buccia e la polpa.
- B. La polpa, il riccio e la buccia.
- C. Il riccio, la polpa e la buccia.

7. In una fattoria sono nati alcuni animali: un anatroccolo, un pulcino e un vitello. In quale delle righe seguenti ogni piccolo è unito alla mamma da una freccia nel modo corretto?

- A. Mucca → vitello; chioccia → anatroccolo; anatra → pulcino.
- B. Mucca → vitello; chioccia → pulcino; anatra → anatroccolo.
- C. Mucca → pulcino; chioccia → vitello; anatra → anatroccolo.













8. Uno scolaro ha versato due bicchieri pieni d'acqua in ciascuno dei recipienti qui raffigurati.




Osserva la figura: quale affermazione è FALSA?

- A. L'acqua raggiunge lo stesso livello nei tre recipienti.
- B. L'acqua raggiunge livelli diversi nei tre recipienti.
- C. L'acqua ha preso la forma dei diversi recipienti.

9. Carlo ha trovato, nello zainetto per la gita, una barretta di cioccolato al latte, una mela, le patatine e il pane. Li ha ordinati dal più dolce al più salato. In che modo li ha disposti?

- A.    
- B.    
- C.    

10. Il cerbiatto Bambi incontra nel bosco alcuni animali nell'ordine indicato dal disegno.



Quale di queste affermazioni è VERA?

- A. Prima della biscia incontra un animale che vola.
- B. Dopo la biscia incontra un animale che vola.
- C. Prima dello scoiattolo incontra un animale che striscia.